



العدد ثلاثيات

almanahji.com/lom

almanahj.com/om



الأهداف التعليمية :

يفهم الاعداد الزوجية والاعداد الفردية 2Nn14

ويميزها

حتى عشرين على الأقل

يستكشف المشكلات العددية والألغاز 2pt3

استطيع ان

استطيع أن أعد تصاعدياً بالثلاثات باستخدام
مربع المئة وحدة.

أستطيع أن أتحدث عن الأعداد الفردية
والزوجية.

التعلم القبلي :
العد اثنيّات وخمسّات وعشّرات
العد حتّى مائه



التمهيد :-

١٠	٩	٨	٧	٦	٥	٤	٣	٢	١
٢٠	١٩	١٨	١٧	١٦	١٥	١٤	١٣	١٢	١١
٣٠	٢٩	٢٨	٢٧	٢٦	٢٥	٢٤	٢٣	٢٢	٢١
٤٠	٣٩	٣٨	٣٧	٣٦	٣٥	٣٤	٣٣	٣٢	٣١
٥٠	٤٩	٤٨	٤٧	٤٦	٤٥	٤٤	٤٣	٤٢	٤١
٦٠	٥٩	٥٨	٥٧	٥٦	٥٥	٥٤	٥٣	٥٢	٥١
٧٠	٦٩	٦٨	٦٧	٦٦	٦٥	٦٤	٦٣	٦٢	٦١
٨٠	٧٩	٧٨	٧٧	٧٦	٧٥	٧٤	٧٣	٧٢	٧١
٩٠	٨٩	٨٨	٨٧	٨٦	٨٥	٨٤	٨٣	٨٢	٨١
١٠٠	٩٩	٩٨	٩٧	٩٦	٩٥	٩٤	٩٣	٩٢	٩١

هيا يا بطل،
قم بعد الأعداد في
الصف الثالث
تصاعديا وتنزليا



العد اثنتان



كم عدد الارجل
??



almanahj.com/lom

الدرجات العشريّة على لوحة المائة



١٠	٩	٨	٧	٦	٥	٤	٣	٢	١
٢٠	١٩	١٨	١٧	١٦	١٥	١٤	١٣	١٢	١١
٣٠	٢٩	٢٨	٢٧	٢٦	٢٥	٢٤	٢٣	٢٢	٢١
٤٠	٣٩	٣٨	٣٧	٣٦	٣٥	٣٤	٣٣	٣٢	٣١
٥٠	٤٩	٤٨	٤٧	٤٦	٤٥	٤٤	٤٣	٤٢	٤١
٦٠	٥٩	٥٨	٥٧	٥٦	٥٥	٥٤	٥٣	٥٢	٥١
٧٠	٦٩	٦٨	٦٧	٦٦	٦٥	٦٤	٦٣	٦٢	٦١
٨٠	٧٩	٧٨	٧٧	٧٦	٧٥	٧٤	٧٣	٧٢	٧١
٩٠	٨٩	٨٨	٨٧	٨٦	٨٥	٨٤	٨٣	٨٢	٨١
١٠٠	٩٩	٩٨	٩٧	٩٦	٩٥	٩٤	٩٣	٩٢	٩١





العد بالخمسات



٥



٥



٥

كم عدد الأصابع
في اليد؟

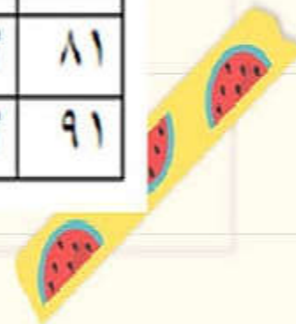


almanahij.com/lom

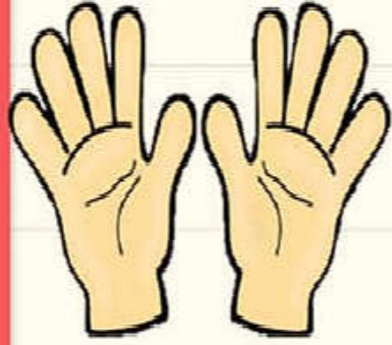


العد بالخمسات على لوحة المائة

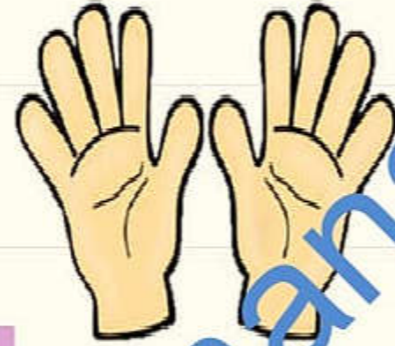
١٠	٩	٨	٧	٦	٥	٤	٣	٢	١
٢٠	١٩	١٨	١٧	١٦	١٥	١٤	١٣	١٢	١١
٣٠	٢٩	٢٨	٢٧	٢٦	٢٥	٢٤	٢٣	٢٢	٢١
٤٠	٣٩	٣٨	٣٧	٣٦	٣٥	٣٤	٣٣	٣٢	٣١
٥٠	٤٩	٤٨	٤٧	٤٦	٤٥	٤٤	٤٣	٤٢	٤١
٦٠	٥٩	٥٨	٥٧	٥٦	٥٥	٥٤	٥٣	٥٢	٥١
٧٠	٦٩	٦٨	٦٧	٦٦	٦٥	٦٤	٦٣	٦٢	٦١
٨٠	٧٩	٧٨	٧٧	٧٦	٧٥	٧٤	٧٣	٧٢	٧١
٩٠	٨٩	٨٨	٨٧	٨٦	٨٥	٨٤	٨٣	٨٢	٨١
١٠٠	٩٩	٩٨	٩٧	٩٦	٩٥	٩٤	٩٣	٩٢	٩١



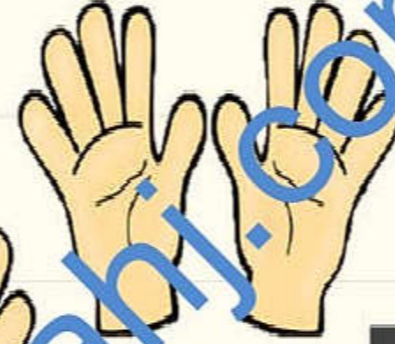
العد بالعشرات



١٠

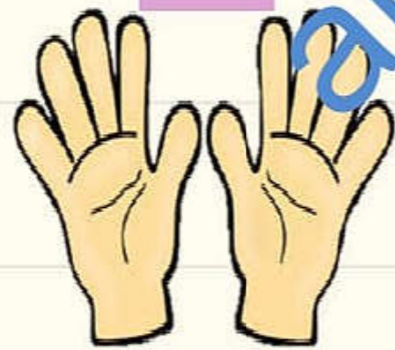


١٠



١٠

كم عدد
اصابع اليد؟



١٠



يحظر التنزيل. © الصورة PowerPoint للمساعدة في حماية خصوصيتك. فام

العد بالعشرات على لوحة المائة



١٠	٩	٨	٧	٦	٥	٤	٣	٢	١
٢٠	١٩	١٨	١٧	١٦	١٥	١٤	١٣	١٢	١١
٣٠	٢٩	٢٨	٢٧	٢٦	٢٥	٢٤	٢٣	٢٢	٢١
٤٠	٣٩	٣٨	٣٧	٣٦	٣٥	٣٤	٣٣	٣٢	٣١
٥٠	٤٩	٤٨	٤٧	٤٦	٤٥	٤٤	٤٣	٤٢	٤١
٦٠	٥٩	٥٨	٥٧	٥٦	٥٥	٥٤	٥٣	٥٢	٥١
٧٠	٦٩	٦٨	٦٧	٦٦	٦٥	٦٤	٦٣	٦٢	٦١
٨٠	٧٩	٧٨	٧٧	٧٦	٧٥	٧٤	٧٣	٧٢	٧١
٩٠	٨٩	٨٨	٨٧	٨٦	٨٥	٨٤	٨٣	٨٢	٨١
١٠٠	٩٩	٩٨	٩٧	٩٦	٩٥	٩٤	٩٣	٩٢	٩١



سير الدرس

almanahj.com/om

Finder

Sun 1:44 PM



هيا يا عفتري نشاهد الفيديو

almanahj.com/om



فيديو
توضيحي



لعبة

<https://wordwall.net/play/8225/078/>

[673](#)

almanajini.com/om

اكمل العد

٣٧ ، ٣٤ ، ٣١ ، ٢٨ ، ٢٥ ، ٢٢ ، ١٩

almanahj.com/lom





اكمل النمط :

١٢
٦

٩
٦

٦ ٣ ٦

١٨ ١٥
٦

almanahj.com/om

فكر يا عبقرى ثم
اجاب

كم جناحا لخمير مراوح ؟



almanahji.com

هيا
يا عبقرى
نفتح كتاب
التلميذ هيا




الكوكب الثلاثى

على الكوكب الثلاثى مركبات فضائية ثلاثية



في الحقيقة، المركبة الثلاثية:
لها ٣ نوافذ!
لها ٣ مصابيح!
تقف على ٣ دعائم!
لها ٣ عجلات في كل دعامة!

أنت رائد فضاء قد حطت مركبتك على الكوكب الثلاثى.



تذكروا أن
تعدوا ثلاثيات.



١) كم مركبة ثلاثية تظهر في الصورة؟

٢) ما عدد الدعائم؟

٣) ما عدد العجلات؟

٤) في يوم آخر كانت هناك ٢١ دعامة. كم عجلة هناك؟ كم مركبة ثلاثية هناك؟

اختر عدد من لوحة المائة
ثم قم بالعد ثلاثيات من العدد
الذي اخترته

almanah.com/lom



١٠	٩	٨	٧	٦	٥	٤	٣	٢	١
٢٠	١٩	١٨	١٧	١٦	١٥	١٤	١٣	١٢	١١
٣٠	٢٩	٢٨	٢٧	٢٦	٢٥	٢٤	٢٣	٢٢	٢١
٤٠	٣٩	٣٨	٣٧	٣٦	٣٥	٣٤	٣٣	٣٢	٣١
٥٠	٤٩	٤٨	٤٧	٤٦	٤٥	٤٤	٤٣	٤٢	٤١
٦٠	٥٩	٥٨	٥٧	٥٦	٥٥	٥٤	٥٣	٥٢	٥١
٧٠	٦٩	٦٨	٦٧	٦٦	٦٥	٦٤	٦٣	٦٢	٦١
٨٠	٧٩	٧٨	٧٧	٧٦	٧٥	٧٤	٧٣	٧٢	٧١
٩٠	٨٩	٨٨	٨٧	٨٦	٨٥	٨٤	٨٣	٨٢	٨١
١٠٠	٩٩	٩٨	٩٧	٩٦	٩٥	٩٤	٩٣	٩٢	٩١

اعد ترتيب الكرات بطريقة تجعلك تعرف عددها
بطريقة اسهل

واجب



الى اللذان يا عباقرة الصف
الثاني مع درس آخر من
دروس الرياضيات الممتعة

